

2026

AVALIAÇÃO DIAGNÓSTICA

AVALIAÇÃO DIAGNÓSTICA

CADERNO

C0501



2224C0501

LÍNGUA PORTUGUESA E MATEMÁTICA
5º ano do Ensino Fundamental - Anos Iniciais

- Nome do(a) estudante

- Turma

| | A | B | C | D |
|----|-----------------------|-----------------------|-----------------------|-----------------------|
| 01 | <input type="radio"/> | <input type="radio"/> | <input type="radio"/> | <input type="radio"/> |
| 02 | <input type="radio"/> | <input type="radio"/> | <input type="radio"/> | <input type="radio"/> |
| 03 | <input type="radio"/> | <input type="radio"/> | <input type="radio"/> | <input type="radio"/> |
| 04 | <input type="radio"/> | <input type="radio"/> | <input type="radio"/> | <input type="radio"/> |
| 05 | <input type="radio"/> | <input type="radio"/> | <input type="radio"/> | <input type="radio"/> |

| | A | B | C | D |
|----|-----------------------|-----------------------|-----------------------|-----------------------|
| 06 | <input type="radio"/> | <input type="radio"/> | <input type="radio"/> | <input type="radio"/> |
| 07 | <input type="radio"/> | <input type="radio"/> | <input type="radio"/> | <input type="radio"/> |
| 08 | <input type="radio"/> | <input type="radio"/> | <input type="radio"/> | <input type="radio"/> |
| 09 | <input type="radio"/> | <input type="radio"/> | <input type="radio"/> | <input type="radio"/> |
| 10 | <input type="radio"/> | <input type="radio"/> | <input type="radio"/> | <input type="radio"/> |

9481454375



GOVERNO DO ESTADO
DO ESPÍRITO SANTO
Secretaria da Educação



ATENÇÃO!

Agora, você vai responder a questões de Língua Portuguesa.

Leia o texto abaixo.

Paraíso no ES! Praia secreta de Guarapari viraliza [...]

Uma praia praticamente escondida em Guarapari viralizou [...] nos últimos dias!

Estamos falando da Praia dos Cosine, um verdadeiro paraíso pouco explorado no Espírito Santo. Localizada na região de Setiba, a cerca de 12 quilômetros do Centro de Guarapari, a Praia dos Cosine faz parte do Morro do Una e integra um trio de praias quase secretas da área, ao lado das praias dos Pacheco e dos Bremen.

O acesso não é dos mais óbvios: para chegar até lá, o ponto de partida é a Praia de Una. Quem vai de carro pode estacionar na Avenida Manoel Rodrigues Pinheiro, nas proximidades da praia. A partir dali, é preciso caminhar pela areia até o costão do lado direito (de frente para o mar).

O restante do trajeto é feito sobre as pedras, em uma trilha que dura cerca de 10 a 15 minutos. Em alguns trechos, o caminho é plano; em outros, exige mais atenção por conta das inclinações. A dica é ir com calma e calçado adequado.

A recompensa vem logo após a última subida. Do alto, a Praia dos Cosine impressiona: faixa de areia pequena, cercada por mata nativa, paredões de pedra nas laterais e um mar de água extremamente cristalina.

Além da praia em si, o local guarda piscinas naturais e é o destino perfeito para um mergulho [...]. Dá para observar peixes, ouriços e todo o visual submerso.

PERMUY, Pedro; VERVLOET, Liege. Paraíso no ES! Praia secreta de Guarapari viraliza [...]. *Folha Vitória*, 30 dez. 2025.

Disponível em: <https://meulink.fit/qKvgLohCvKhSQNV>. Acesso em: 30 dez. 2025. Adaptado para fins didáticos. Fragmento. (P00185532_SUP)

01) (P00185532) Entende-se desse texto que a Praia dos Cosine

- A) é conhecida por mergulhadores.
- B) é uma área bem preservada.
- C) recebe competições esportivas.
- D) tem pouca extensão de pedras.

02) (P00185533) Esse texto foi escrito para

- A) dar uma informação.
- B) divulgar um evento.
- C) ensinar uma tarefa.
- D) vender um produto.

Leia o texto abaixo.




SCHULZ, Charles M. Disponível em: <https://meulink.fit/nrMLDkrAdMTTdeJ>. Acesso em: 5 jan. 2026. (P00185534_SUP)

03) (P00185534) Entende-se desse texto que

- A) o cachorro deseja contar uma história.
- B) o cachorro quer morar na montanha.
- C) o passarinho deseja ser escritor.
- D) o passarinho quer ir para praia.

Leia o texto abaixo.

capixaba 

Significado de Capixaba
substantivo masculino e feminino

Pequeno estabelecimento agrícola; local onde há uma plantação; roça, chácara, sítio.

Pessoa que nasceu em Vitória, capital do estado brasileiro do Espírito Santo; espírito-santense, vitoriense.

CAPIXABA. Dicionário Online de Português. Disponível em: <https://meulink.fit/sPsYwrzEfBYchGe>. Acesso em: 5 jan. 2026. Adaptado para fins didáticos. (P00185535_SUP)

04) (P00185535) Esse texto é

- A) um conto.
- B) um verbete.
- C) uma lenda.
- D) uma notícia.

Leia o texto abaixo.

A amizade inesperada

(Cena: A selva, com o Leão descansando sob uma árvore.)

LEÃO: (Bocejando) Que sono! A selva é realmente tranquila hoje.

(Rato aparece timidamente, observando o Leão de longe.)

RATO: (Sussurrando) Uau, é o Leão! O rei da selva... Será que devo me aproximar?

(Rato, com um pouco de medo, se esconde atrás de uma pedra.)

LEÃO: (Percebendo algo) Quem está aí? Mostre-se!

RATO: (Saindo de trás da pedra) Desculpe, senhor Leão. Eu sou apenas um humilde rato. Não queria incomodar.

LEÃO: (Sorrindo) Ah, você é o Rato. Não se preocupe, pequeno amigo, não sou tão assustador quanto parece.

RATO: (Curioso) O senhor é realmente o Leão? O rei da selva?

LEÃO: (Orgulhoso) Sim, sou eu. Sou o rei da selva, e todos os animais aqui me respeitam.

RATO: (Admirado) Que impressionante! O senhor é muito forte e corajoso.

LEÃO: (Modesto) Bem, é verdade que tenho minhas habilidades, mas todos os animais têm suas características únicas.

RATO: (Timidamente) Eu, na verdade, sou muito pequeno e frágil. Não tenho nenhuma habilidade especial.

LEÃO: (Com compaixão) Não diga isso, Rato. Cada criatura tem seu valor e importância na natureza.

(Rato se aproxima do Leão com curiosidade.)

RATO: (Olhando para as patas do Leão) Uau, suas patas são enormes! Deve ser incrível caminhar com elas.

LEÃO: (Sorrindo) Sim, elas são úteis para caçar e proteger a selva. Mas, às vezes, até mesmo o mais forte precisa de ajuda.

RATO: (Confuso) Como assim?

LEÃO: (Contando uma história) Há algum tempo, fiquei preso em uma armadilha de caçadores. Minhas patas poderosas não eram páreo para os laços.

RATO: (Surpreso) Sério? E o que aconteceu?

LEÃO: (Grato) Foi quando um pequeno rato como você apareceu. Ele roeu as cordas da armadilha e me libertou.

RATO: (Sorrindo) Eu não posso acreditar! Um simples rato ajudou o rei da selva?

LEÃO: (Com ternura) Sim, ele me mostrou que a verdadeira força está no coração e na amizade. Desde então, sou grato a todos os animais, independentemente de seu tamanho.

BUENO, Nara. A amizade inesperada. Recanto das Letras, 20 jul. 2023. Disponível em: <https://meulink.fit/ZMZdzbNiKlvbWSb>. Acesso em: 26 jan. 2026. Fragmento. (P00189754_SUP)

05) (P00189754) O fato que dá origem a essa história é

- A) o Rato ter se mostrado para o Leão.
- B) o Rato ficar impressionado com o Leão.
- C) o Leão ter sido pego por uma presa.
- D) o Leão estar descansando na árvore.

ATENÇÃO!

Agora, você vai responder a questões de Matemática.

06) (M00185408) Observe, no quadro abaixo, o preço do ingresso de um parque.

R\$ 9,75

O preço desse ingresso equivale a

- A) 9,75 décimos de real.
- B) 9,75 centésimos de real.
- C) 975 décimos de real.
- D) 975 centésimos de real.









07) (M00164897) Observe os números no quadro abaixo.

1 232 1 533 1 229 1 506





Qual desses números é o menor?

- A) 1 232.
- B) 1 533.
- C) 1 229.
- D) 1 506.

08) (M00132102) Observe as figuras apresentadas no sistema de linhas e colunas abaixo.

| | | | |
|---|---|---|---|
| 4 | |  | |
| 3 |  |  |  |
| 2 |  | |  |
| 1 | |  |  |
| | X | Y | Z |

Qual é a figura que está apresentada na posição Z3?

- A) 
- B) 
- C) 
- D) 

09) (M00132087) Observe, no quadro abaixo, a igualdade em que a figura  representa um número.

$$32 + \text{heart icon} = 50$$

Qual é o número que a figura  representa nessa igualdade?

- A) 18.
- B) 32.
- C) 64.
- D) 82.

10) (M00150223) Gabriel mediu o comprimento da corda que ele utiliza para brincar.

Qual é a unidade de medida adequada para medir esse comprimento?

- A) Quilograma.
- B) Metro.
- C) Litro.
- D) Grau célsius.